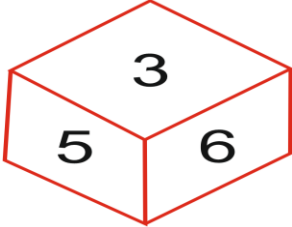


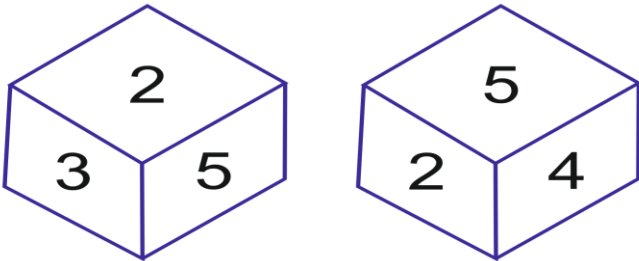
**REASONING QUIZ**

**Q.1.** दिए गए पासे में 3 के विपरीत फलक पर कौनसा अंक होगा ?



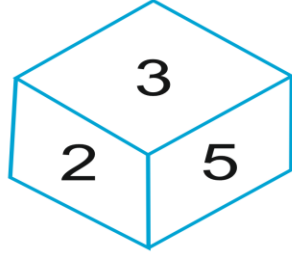
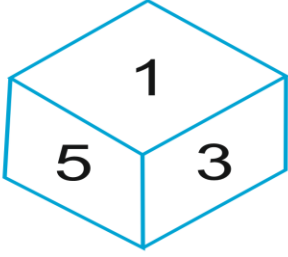
- (A) 2
- (B) 4
- (C) 1
- (D) None

**Q.2.** दिए गए पासे में 3 के विपरीत फलक पर कौनसा अंक होगा ?



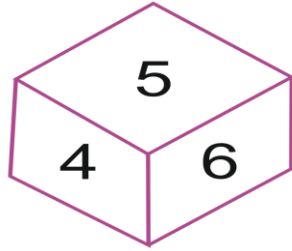
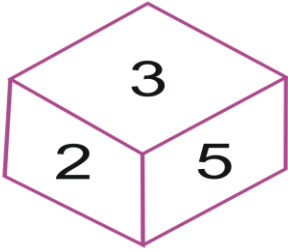
- (A) 1
- (B) 4
- (C) 6
- (D) 5

**Q.3.** दिए गए पासे में 2 के विपरीत फलक पर कौनसा अंक होगा ?



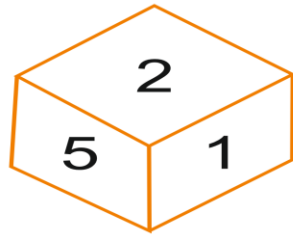
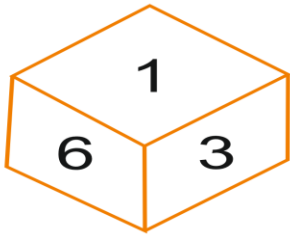
- (A) 1
- (B) 4
- (C) 6
- (D) 2

**Q.4.** दिए गए पासे में 2 के विपरीत फलक पर कौनसा अंक होगा ?



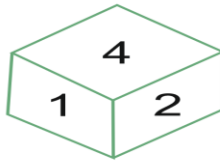
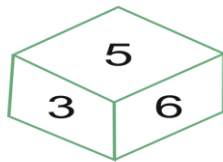
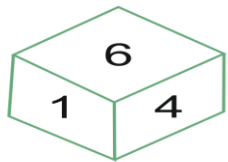
- (A) 6
- (B) 3
- (C) 1
- (D) 4

**Q.5.** दिए गए पासे में 6 के विपरीत फलक पर कौनसा अंक होगा ?



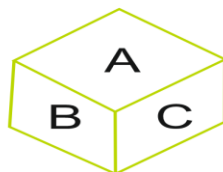
- (A) 2
- (B) 3
- (C) 5
- (D) 1

**Q.6.** यदि 2 अंक तल में स्थित हो तो ऊपर कौन सा अंक है ?



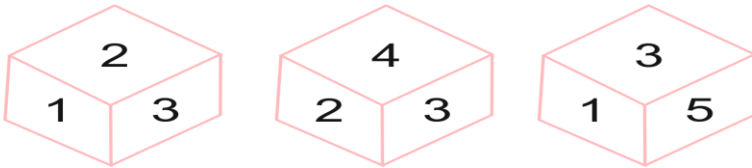
- (A) 5
- (B) 3
- (C) 1
- (D) 6

**Q.7.** C के सामने कौन सा अंक होगा ?



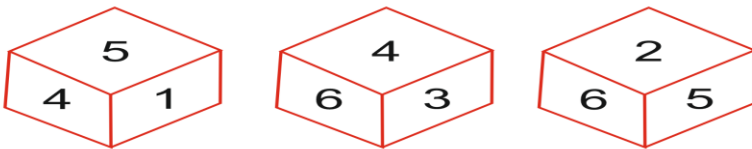
- (A) B
- (B) F
- (C) D
- (D) E

**Q.8. 4 के सामने कौन सा अंक होगा ?**



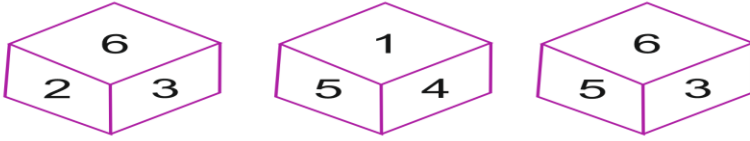
- (A) 1
- (B) 2
- (C) 3
- (D) 4

**Q.9. 6 के सामने कौन सा अंक होगा?**



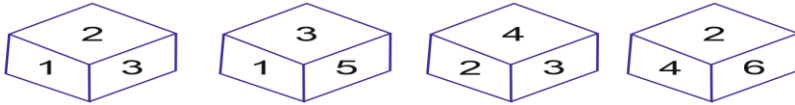
- (A) 2
- (B) 1
- (C) 4
- (D) 5

**Q.10.** 6 के सामने कौन सा अंक होगा?



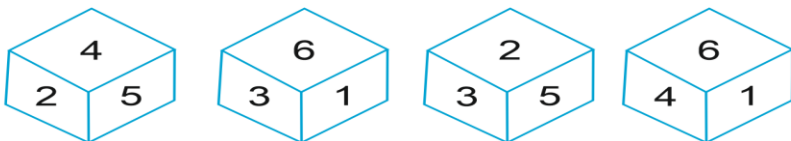
- (A) 1
- (B) 2
- (C) 5
- (D) 3

**Q.11.** 3 के विपरीत फलक पर कौनसी संख्या है?



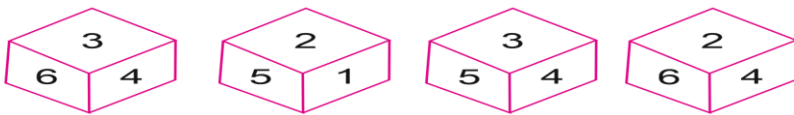
- (A) 1
- (B) 6
- (C) 5
- (D) 4

**Q.12.** 3 के विपरीत फलक पर कौनसी संख्या है ?



- (A) 1
- (B) 6
- (C) 5
- (D) 4

**Q.13.** 3 के विपरीत फलक पर कौनसी संख्या है?



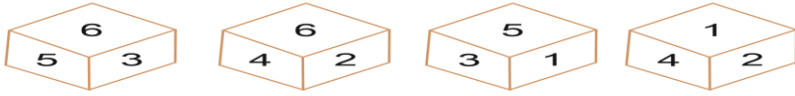
- (A) 1
- (B) 6
- (C) 5
- (D) 2

**Q.14.** 4 के विपरीत फलक पर कौनसी संख्या है ?



- (A) 3
- (B) 6
- (C) 5
- (D) 4

Q.15. 6 के विपरीत फलक पर कौनसी संख्या है?



- (A) 1
- (B) 6
- (C) 5
- (D) 4

**ANSWER**

**1.B**

**2.B**

**3.A**

**4.A**

**5.A**

**6.D**

**7.B**

**8.A**

**9.B**

**10.A**

**11.B**

**12.D**

**13.D**

**14.A**

**15.A**